



Авторы - составители:
Парфёнова Е.В., учитель математики МАОУ «СОШ №2»
Емельянова Г.В., учитель химии МАОУ «СОШ №2»
Арбузова С.Л., учитель русского языка и литературы МАОУ «СОШ №2»

3 класс

Текст задачи: Мудрый обычай у слонов

Молодые животные могут трогательно заботиться о своих беспомощных родных, проявляя доброе отношение к постаревшим родителям. Так, у слонов принято, что однажды наступает день, когда самые старые из них покидают стадо. Делают они это, почувствовав, что уже не в силах угнаться за молодыми. Ведь слоновье стадо обычно совершает быстрые и длительные переходы. В день они съедают несколько центнеров разнообразной растительной пищи.

Слоны от природы не равнодушны к судьбе своих престарелых сородичей и окружают их особым вниманием. Поэтому, если на склоне лет слон решает прекратить свои странствия и перейти на оседлый образ жизни, с ним остаются помощники – один или два юных слона. В случае опасности молодые животные предупреждают своего подопечного и прячут в укрытии. А сами смело бросаются навстречу врагу.

Нередко слоны сопровождают старца до самого его последнего вздоха. И что важно отметить – престарелый слон, как бы в благодарность за заботу, тоже оказывает помощь этим юным телохранителям. Он постепенно обучает их древней слоновьей мудрости.

Вот какой обычай существует у таких больших, сильных и красивых животных, как слоны.

Татьяна Жданова

Внимательно почитайте текст и выполните задания ниже.

Задание 1.

Какие качества слонов подчеркивает автор в прочитанном вами тексте? Выберите их из предложенного списка, подчеркните верные ответы. (4 балла)
заботливые, подвижные, отзывчивые, ленивые, трусливые, добрые, выносливые, равнодушные, честные, внимательные, равнодушные, самоотверженные, смелые, мужественные, мудрые, благодарные, несчастные.

Задание 2.

Вы прочитали рассказ Татьяны Ждановой «Мудрый обычай у слонов». Отметьте верные (+) и неверные (-) высказывания. (5 баллов)

А	Слоны от природы равнодушны к судьбе своих престарелых сородичей.
Б	Автор утверждает, что к старости слоны решают «перейти на оседланный образ жизни»
В	Престарелых слонов сопровождают один или два юных слона.
Г	Слоновье стадо обычно совершает быстрые и утомительные переходы.
Д	Старые слоны обучают своих юных родственников находить пропитание.

Задание 3.

Ребятам было дано задание разобрать слово *подопечного* по составу. Витя Ошибкин так выполнил разбор: (4 балла)

Приставка ПОДО-	Корень -ПЕЧ-	Суффикс -Н-	Окончание -ОГО.
-----------------	--------------	-------------	-----------------

1. А как бы вы разобрали по составу это слово? Выполните разбор.

2. Как вы думаете, от какого слова образовано *подопечный*?

3. Определите лексическое значение слова *подопечный* (что обозначает).

Задание 4.

Витя Ошибкин выполнил еще одно задание: выписал слова, в которых все согласные звуки звонкие. Проверьте, правильно ли он справился с работой. (1 балл)

В каком ряду во всех словах только звонкие согласные. Обведи букву верного ответа.

- А) образ, слоновьей, мудрости;
- Б) молодые, врагу, жизни;
- В) важно, нередко, природа.

Задание 5.

Витя Ошибкин на уроке окружающего мира утверждал, что слоны живут на Северном полюсе: (2 балла)

А) Сегодня ночью мне приснился странный сон,
Что под вулканами пасётся дикий слон.

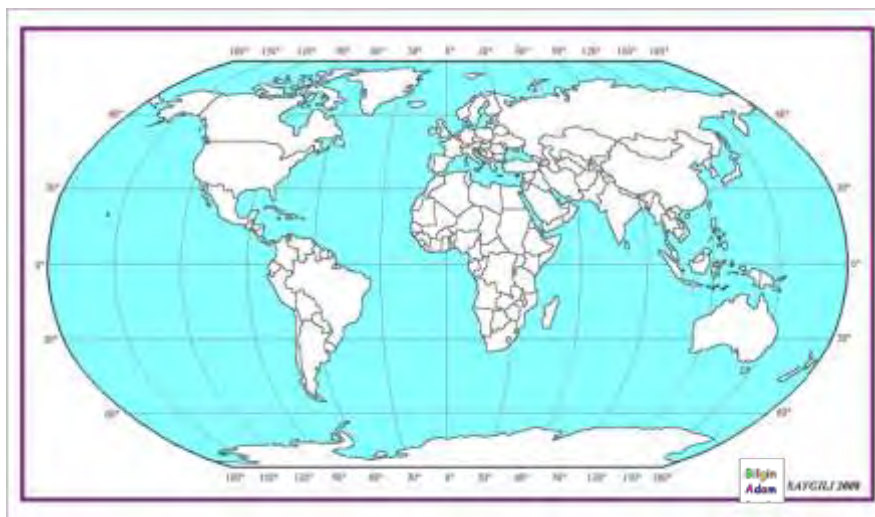
Он в шубе, в шапке, в валенках,

А с ним слонёнок маленький -

Вот чудо-то среди зимы!

А где же на Земле живут слоны?

Б) Отметьте на карте крестиком материке - места обитания слонов.



Задание 6.

Как известно, слоны совершают длительные переходы в поисках разнообразной растительной пищи. (1 балл)

Сколько килограммов корма требуется слону в день? Обведите букву верного ответа.

- А) 2000 кг Б) 300 кг В) 50 кг

Задание 7.


Найдите в квадрате названия животных, которых вы видите на картинках и зачеркните слова одной чертой. (4 балла)



Л	О	К	П	И	Л	У	Т	С	Ш
Ё	Ш	А	И	М	Е	Р	А	Л	К
Л	И	М	Т	Ё	Ж	У	М	О	Р
Е	С	Л	О	М	Ё	К	А	П	У
С	Е	Ж	А	О	Л	И	С	А	Т
А	Д	И	Т	Б	А	Д	У	Ж	Д
Р	К	О	Ж	Ё	С	А	Р	И	А
А	Р	Р	А	Б	У	Л	Д	Р	Ш
М	О	Ж	О	Л	Ё	К	О	П	Ё
Ё	Т	У	Б	Д	Л	Ш	М	Н	У

Задание 8.

Сколько животных вы видите на данном рисунке? Каждое животное отметьте галочкой. (3 балла)



Задание 9.

Используя справки №1 и №2, определите, сколько бутылок воды сможет выпить каждый член слоновьего стада за минуту, если известно, что целое стадо за минуту выпивает две бочки? (3 балла)

<i>Справка № 1</i> Объём бочки с водой равен объёму восьми ведер. Объём ведра равен объёму двадцати бутылок.	<i>Справка № 2</i> В стаде 16 слонов.
--	--

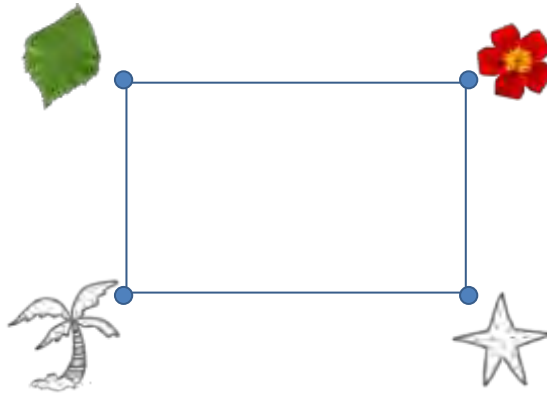
Задание 10.

Помогите Вите Ошибкину узнать длину пути слона во время дневной прогулки. Используйте рисунок Вити и справку. Обведи букву верного выражения. (2 балла).

Справка

Длина пути от пальмы до листика составляет 2 км. Длина пути от листика до цветка составляет 3 км.

А) $3 \cdot 2$	Б) $3 + 2$	В) $(3 + 2) \cdot 2$
----------------	------------	----------------------



Задание 11.

Из пунктов А и В навстречу друг другу вышли два слона. В пункте С они встретились. Один слон проходит каждый час 50 км, а второй - на 10 км меньше. Через сколько часов они встретятся, если расстояние между пунктами 180 км. (3 балла)

Задание 12.

Угадайте закономерность. Какой рисунок из второй строки нужно вставить в пустую рамочку? Объясните своё решение. (2 балла).

